

なまえ

\*□の中にすうを入れましょう。

①  8  10   14   18

②   30  40   60  70

\*つぎのけいさんをしましょう。

①  $9 + 2$

②  $4 + 8$

③  $8 + 6$

④  $6 + 7$

⑤  $11 - 4$

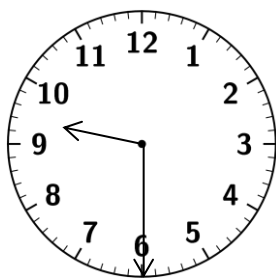
⑥  $16 - 8$

⑦  $18 - 8$

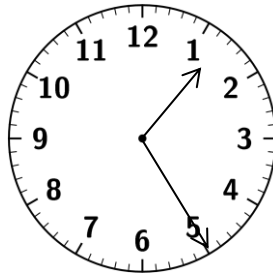
⑧  $12 - 9$

\*とけいのはりをよみましょう。

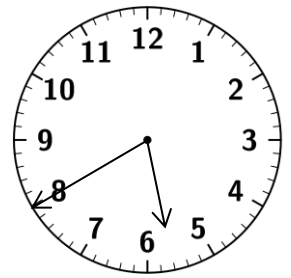
①




②




③



なまえ

\*□の中にすうを入れましょう。

①

52	53			56	
----	----	--	--	----	--

②

108		110			113
-----	--	-----	--	--	-----

\*つぎのけいさんをしましょう。

①  $8 + 5$

②  $7 + 9$

③  $9 + 3$

④  $6 + 7$

⑤  $14 - 7$

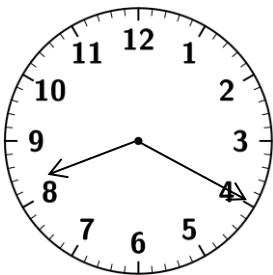
⑥  $13 - 9$

⑦  $17 - 8$

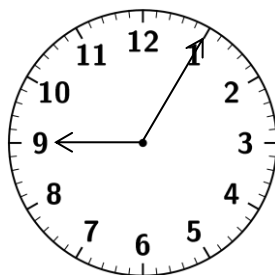
⑧  $11 - 6$

\*とけいのはりをよみましょう。

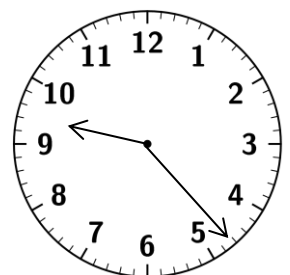
①




②

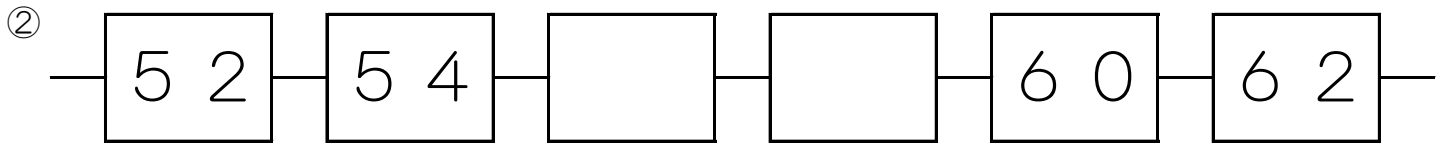
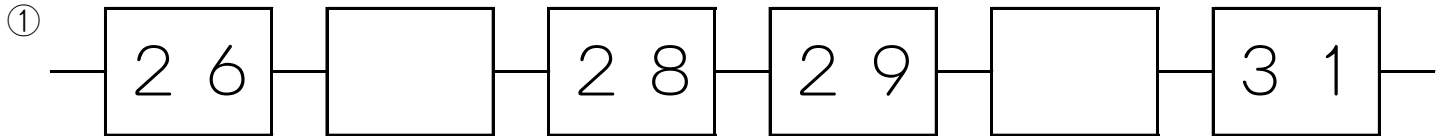



③



なまえ

\*□の中にすうを入れましょう。



\*つぎのけいさんをしましょう。

①  $3 + 8$

②  $6 + 7$

③  $7 + 9$

④  $8 + 5$

⑤  $13 - 7$

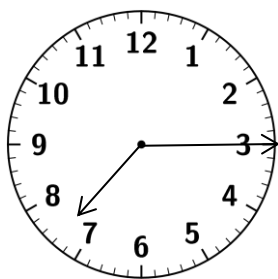
⑥  $15 - 7$

⑦  $17 - 9$

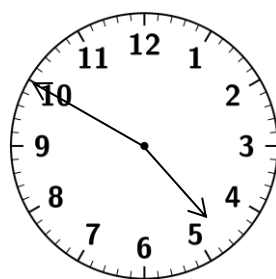
⑧  $16 - 9$

\*とけいのはりをよみましょう。

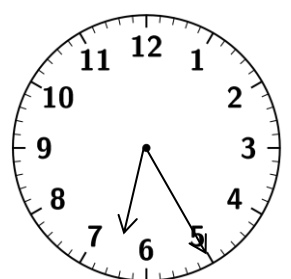
①




②

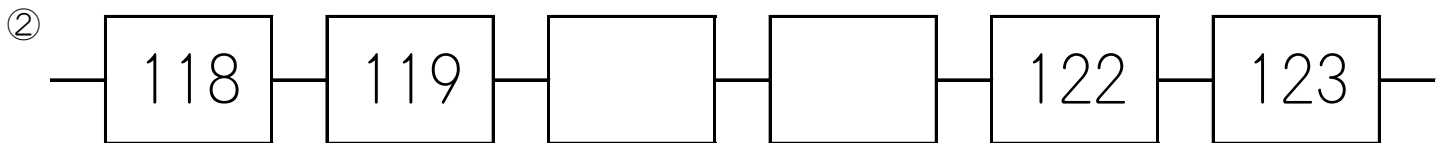
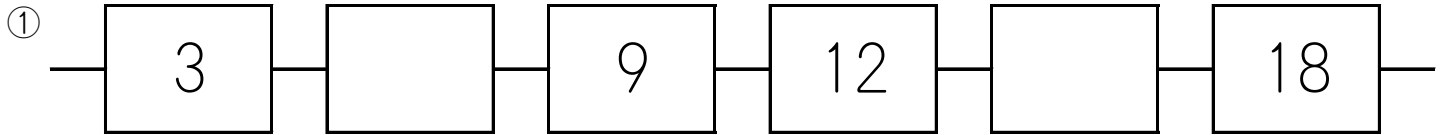



③



なまえ

\*□の中にすうを入れましょう。



\*つぎのけいさんをしましょう。

①  $4 + 8$

②  $7 + 6$

③  $5 + 9$

④  $8 + 9$

⑤  $14 - 9$

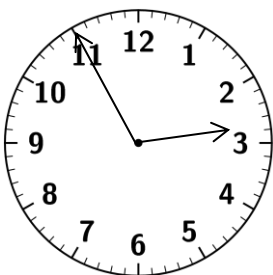
⑥  $16 - 7$

⑦  $13 - 5$

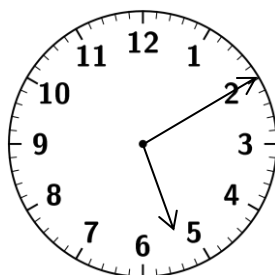
⑧  $17 - 9$

\*とけいのはりをよみましょう。

①




②




③

